

O Estoque

Uma papelaria comprou 1.250 cadernos. Já vendeu 875. Quantos cadernos ainda restam no estoque?



A Biblioteca

Em uma estante de biblioteca cabem 45 livros. Se a biblioteca tem 18 estantes iguais a essa e todas estão cheias, quantos livros há no total?



O Refrescor

Para uma festa, foram compradas 12 caixas de suco. Cada caixa contém 24 garrafinhas. Quantas garrafinhas de suco foram compradas ao todo?



Divisão de Prêmios

Um prêmio de R\$ 3.500,00 será dividido igualmente entre 5 vencedores. Quanto cada um receberá?




Economia

Marina quer comprar uma bicicleta que custa R\$ 840,00. Ela já economizou R\$ 565,00. Quanto ainda falta para ela conseguir comprar a bicicleta?



A Granja

Um granjeiro colheu 432 ovos e quer colocá-los em caixas que comportam uma dúzia (12) cada. Quantas caixas ele conseguirá encher?



Reflorestamento

Em um projeto de reflorestamento, foram plantadas 15 fileiras com 125 árvores em cada uma. Quantas árvores foram plantadas no total?



A Pizza

Uma pizza foi dividida em 8 pedaços iguais. Se Paulo comeu 3 pedaços, que fração da pizza ele comeu e quanto sobrou?



Chocolates

Ana tem 24 bombons. Ela deu 31 para sua irmã. Quantos bombons ela deu e com quantos ficou?



Mesada

Pedro recebe R\$ 50,00 de mesada. Ele gastou R\$ 12,50 com lanche e R\$ 15,75 com um brinquedo. Quanto sobrou de sua mesada?




Altura

João mede 1,45 metro e seu irmão mais velho mede 1,68 metro.
Qual é a diferença de altura entre os dois?



Padaria

Um pãozinho custa R\$ 0,45. Quanto custarão 10 pãezinhos?




Fita

Para um trabalho de escola, Luísa precisa de 3 pedaços de fita de 2,5 metros cada. Quantos metros de fita ela deve comprar no total?



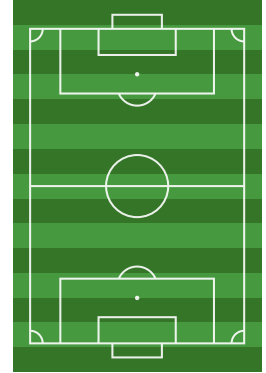
Perímetro

Um terreno quadrado tem 25 metros de lado. Qual é o perímetro (a soma de todos os lados) desse terreno?



Campo de Futebol

Um campo de futebol tem 100 metros de comprimento e 70 metros de largura. Qual é a área total desse campo?



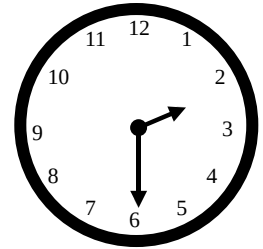
O Treino

Um atleta corre 1.500 metros por dia. Quantos quilômetros ele terá corrido após 5 dias?



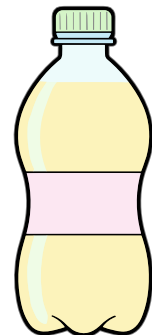
Tempo

Um filme começou às 14h30 e terminou às 16h15. Qual foi a duração total do filme em minutos?



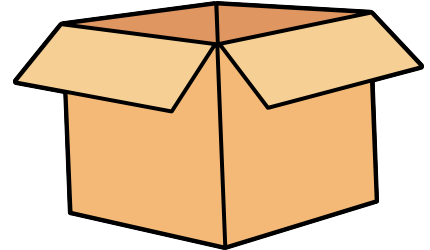
Capacidade

Uma garrafa de refrigerante tem 2 litros. Quantos copos de 250 ml podem ser enchidos com o conteúdo dessa garrafa?



Massa

Uma caixa vazia pesa 500 gramas. Ao enchê-la com mantimentos, o peso total passou para 4,2 kg. Qual o peso apenas dos mantimentos?



Idades

A soma das idades de dois irmãos é 25 anos. Sabendo que o mais velho tem 7 anos a mais que o mais novo, qual a idade de cada um?



GABARITO

Problema	Resposta	Cálculo Sugerido
1	375 cadernos	$1250-875$
2	810 livros	45×18
3	R\$ 700,00	$3500 \div 5$
4	288 garrafinhas	12×24
5	R\$ 275,00	$840-565$
6	36 caixas	$432 \div 12$
7	1.875 árvores	15×125
8	Comeu 83 e sobrou 85	Fração do inteiro
9	Deu 8 e ficou com 16	$24 \div 3 = 8$
10	R\$ 21,75	$50 - (12,50 + 15,75)$
11	0,23 m (ou 23 cm)	$1,68 - 1,45$
12	R\$ 4,50	$0,45 \times 10$
13	7,5 metros	$3 \times 2,5$
14	100 metros	25×4
15	7.000 m ²	100×70
16	7,5 km	$(1500 \times 5) \div 1000$
17	8 copos	$2000 \text{ ml} \div 250$
18	105 minutos	$1 \text{ h } 45 \text{ min} = 60 + 45$
19	3,7 kg (ou 3700g)	$4200 \text{ g} - 500 \text{ g}$
20	9 e 16 anos	$x + (x + 7) = 25$
21	10	$(30 - 10) \div 2$

Mais recursos EDUCATIVOS EM

educlub

www.educlub.com.br