



Problemas de multiplicação 2º ano

Resolva os problemas:

1. Mariana tem 2 caixas de lápis de cor. Cada caixa tem 10 lápis. Quantos lápis Mariana tem no total?



2. Pedro ganhou 3 pacotes de figurinhas. Cada pacote tem 5 figurinhas. Quantas figurinhas Pedro ganhou?



3. Na sala de aula há 4 fileiras de carteiras. Cada fileira tem 3 carteiras. Quantas carteiras há no total?




Problemas de multiplicação 2º ano

Resolva os problemas:

4. Júlia tem 5 potes de massinha de modelar. Cada pote tem 4 cores diferentes. Quantas cores de massinha Júlia tem no total?



5. O pai de Carlos comprou 2 caixas de picolés. Cada caixa tem 10 picolés. Quantos picolés foram comprados?




6. Ana tem 3 álbuns de fotos. Cada álbum tem 10 páginas. Quantas páginas de fotos Ana tem no total?




Problemas de multiplicação 2º ano

Resolva os problemas:

7. Na festa de aniversário de Lucas, há 5 mesas. Em cada mesa, há 4 balões. Quantos balões foram usados para decorar as mesas?



8. Sofia ganhou 4 pacotes de adesivos. Cada pacote tem 8 adesivos. Quantos adesivos Sofia ganhou?




9. Na biblioteca da escola, há 3 estantes. Cada estante tem 10 livros infantis. Quantos livros infantis há no total?




Problemas de multiplicação 2º ano

Resolva os problemas:

10. João tem 2 caixas de giz de cera. Cada caixa tem 5 gizes. Quantos gizes de cera João tem?



11. Na lanchonete da escola, há 4 bandejas com sanduíches. Cada bandeja tem 3 sanduíches. Quantos sanduíches há no total?



12. Maria plantou 5 fileiras de flores no jardim. Cada fileira tem 4 flores. Quantas flores Maria plantou?




Problemas de multiplicação 2º ano

Resolva os problemas:

13. O time de futebol da escola tem 2 conjuntos de uniformes. Cada conjunto tem 10 camisetas. Quantas camisetas o time tem no total?



14. Beatriz tem 3 caixas de brinquedos. Cada caixa tem 5 brinquedos. Quantos brinquedos Beatriz tem?




15. Na festa junina da escola, há 4 barracas de jogos. Cada barraca tem 3 jogos diferentes. Quantos jogos há no total?




Problemas de multiplicação 2º ano

Resolva os problemas:

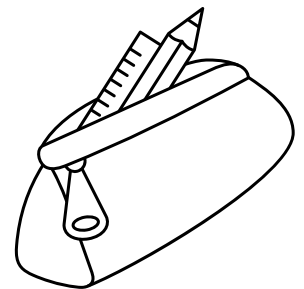
16. Lucas coleciona carrinhos. Ele tem 5 prateleiras com 2 carrinhos em cada. Quantos carrinhos Lucas tem na coleção?



17. Na aula de arte, a professora distribuiu 3 folhas de papel colorido para cada um dos 4 grupos. Quantas folhas foram distribuídas?




18. Gabriela tem 2 estojos. Em cada estojo, ela guarda 5 canetas coloridas. Quantas canetas coloridas Gabriela tem no total?




Problemas de multiplicação 2º ano

Resolva os problemas:

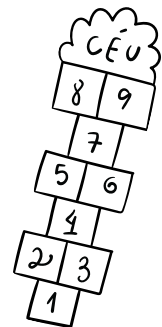
19. No piquenique da turma, cada criança ganhou 3 frutas. Se há 10 crianças, quantas frutas foram distribuídas?



20. O pai de Miguel comprou 4 caixas de ovos. Cada caixa tem 10 ovos. Quantos ovos ele comprou?



21. Na gincana da escola, cada equipe tem 5 participantes. Se há 3 equipes, quantos alunos estão participando da gincana?




Problemas de multiplicação 2º ano

Resolva os problemas:

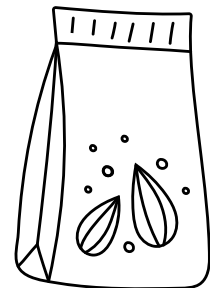
22. Clara tem 2 álbuns de figurinhas. Cada álbum tem 10 páginas. Quantas páginas Clara tem para colar suas figurinhas?



23. No zoológico, há 4 jaulas com macacos. Cada jaula tem 3 macacos. Quantos macacos há no total?




24. Tiago ganhou 5 pacotes de sementes. Cada pacote tem 4 tipos diferentes de sementes. Quantos tipos de sementes Tiago pode plantar?




Problemas de multiplicação 2º ano

Resolva os problemas:


25. Na loja de brinquedos, há 3 caixas de blocos de montar. Cada caixa tem 10 blocos. Quantos blocos há no total?



26. A professora distribuiu 2 folhas de adesivos para cada um dos 5 alunos. Quantas folhas de adesivos foram distribuídas?



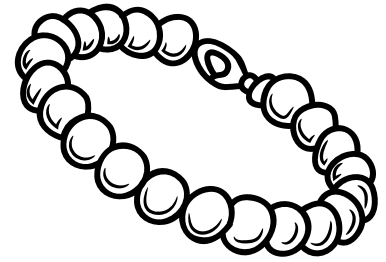
27. No armário da cozinha, há 4 prateleiras. Em cada prateleira, há 3 potes de temperos. Quantos potes de temperos há no armário?



Problemas de multiplicação 2º ano

Resolva os problemas:


28. Renata tem 5 pulseiras. Cada pulseira tem 2 pingentes. Quantos pingentes Renata tem no total?



29. Na fazenda do tio de Pedro, há 3 galinheiros. Cada galinheiro tem 10 galinhas. Quantas galinhas há na fazenda?




30. O dentista deu 4 escovas de dente para cada uma das 2 crianças. Quantas escovas de dente o dentista deu no total?




Problemas de multiplicação 2º ano

Resolva os problemas:


31. Na fruteira da cozinha, há 5 cachos de bananas. Cada cacho tem 4 bananas. Quantas bananas há no total?



32. A turma do 2º ano fez 3 cartazes para a feira de ciências. Cada cartaz tem 5 desenhos. Quantos desenhos foram feitos no total?



33. No aquário da sala, há 2 fileiras de peixinhos. Cada fileira tem 10 peixinhos. Quantos peixinhos há no aquário?




Problemas de multiplicação 2º ano

Resolva os problemas:

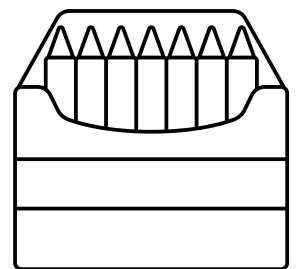
34. Luísa tem 4 pacotes de bolinhas de gude. Cada pacote tem 5 bolinhas. Quantas bolinhas de gude Luísa tem?



35. Na loja de roupas, há 3 araras de camisetas. Cada arara tem 10 camisetas. Quantas camisetas há na loja?



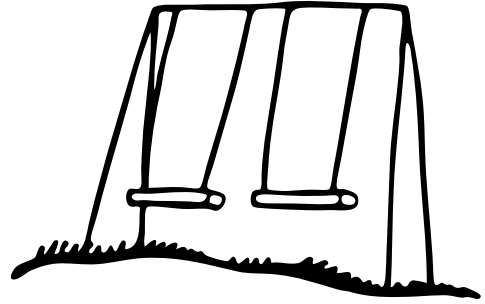
36. O pai de Ana comprou 5 caixas de lápis. Cada caixa tem 2 lápis. Quantos lápis o pai de Ana comprou?



Problemas de multiplicação 2º ano

Resolva os problemas:

37. No parquinho, há 4 gangorras. Em cada gangorra podem brincar 3 crianças. Quantas crianças podem brincar nas gangorras ao mesmo tempo?



38. Marcos tem 2 álbuns de selos. Cada álbum tem 5 páginas. Quantas páginas Marcos tem para colar seus selos?



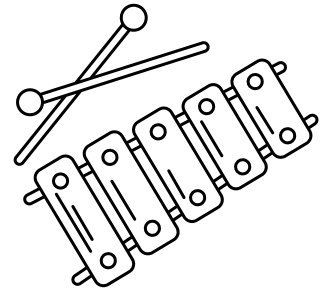
39. Na padaria, há 3 bandejas de pães. Cada bandeja tem 10 pães. Quantos pães há no total?




Problemas de multiplicação 2º ano

Resolva os problemas:

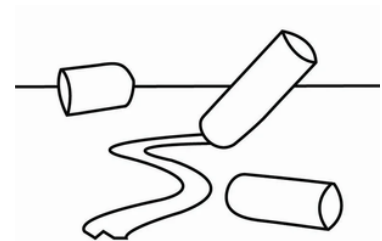
40. A professora de música trouxe 4 caixas de instrumentos. Cada caixa tem 3 instrumentos diferentes. Quantos instrumentos a professora trouxe?



41. No pomar da escola, há 5 árvores frutíferas. Cada árvore deu 4 frutas. Quantas frutas foram colhidas no total?



42. João ganhou 2 caixas de giz. Cada caixa tem 10 giz coloridos. Quantos giz coloridos João ganhou?




Problemas de multiplicação 2º ano

Resolva os problemas:


43. Na aula de educação física, a turma foi dividida em 3 times. Cada time tem 5 jogadores. Quantos alunos estão participando do jogo?



44. Clara tem 4 pacotes de adesivos de estrelas. Cada pacote tem 5 estrelas. Quantas estrelas Clara tem para decorar seu caderno?



45. No armário da sala de aula, há 2 prateleiras. Em cada prateleira, cabem 10 livros. Quantos livros podem ser guardados no armário?




Problemas de multiplicação 2º ano

Resolva os problemas:

46. A mãe de Lucas fez 5 travessas de brigadeiros. Cada travessa tem 4 brigadeiros. Quantos brigadeiros ela fez no total?



47. Na loja de brinquedos, há 3 caixas de carrinhos. Cada caixa tem 10 carrinhos. Quantos carrinhos há na loja?



48. Pedro tem 4 álbuns de figurinhas de animais. Cada álbum tem 5 páginas. Quantas páginas Pedro tem para colar suas figurinhas de animais?




Problemas de multiplicação 2º ano

Resolva os problemas:

49. Na festa de aniversário de Maria, há 2 mesas com doces. Em cada mesa, há 10 docinhos. Quantos docinhos há no total?



50. A turma do 2º ano fez uma exposição de desenhos. Cada aluno fez 3 desenhos, e há 5 alunos na turma. Quantos desenhos foram expostos?



51. Na festa de São João da escola, Dona Maria fez 5 panelas de canjica. Cada panela rende 10 porções. Quantas porções de canjica Dona Maria preparou para a festa?

