

# Atividade de

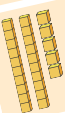
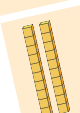
# DEZENA E

# UNIDADE

## 1º ANO










### Conte o Material Dourado

Observe as peças do Material Dourado. Conte as dezenas e as unidades, e depois escreva o número total que elas formam.

Representação	Dezenas (D)	Unidades (U)	Número total
	_____	_____	_____
	_____	_____	_____
	_____	_____	_____
	_____	_____	_____

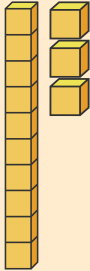
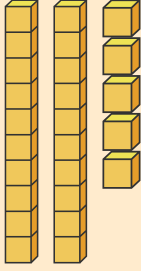
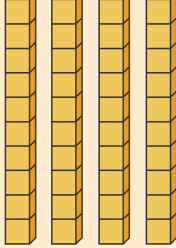
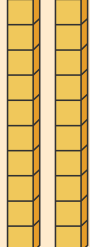
### Represente as dezenas e unidades no ábaco

Desenhe em cada ábaco o número de argolas corretamente na dezena (D) e na unidade (U).

 45	 63	 38
 9	 81	 74
 60	 13	 22

# Conte o Material Dourado

Observe as peças do Material Dourado. Conte as dezenas e as unidades, e depois escreva o número total que elas formam.

Representação	Dezenas (D)	Unidades (U)	Número total
	<hr/>	<hr/>	<hr/>
	<hr/>	<hr/>	<hr/>
	<hr/>	<hr/>	<hr/>
	<hr/>	<hr/>	<hr/>

## Decomponha os números

Veja os números abaixo e separe-os em dezenas e unidades, como no exemplo.

**Exemplo: 16 = 1 dezena e 6 unidades**

- a) 25 = \_\_\_\_ dezenas e \_\_\_\_ unidades
- b) 18 = \_\_\_\_ dezena e \_\_\_\_ unidades
- c) 32 = \_\_\_\_ dezenas e \_\_\_\_ unidades
- d) 9 = \_\_\_\_ dezenas e \_\_\_\_ unidades
- e) 20 = \_\_\_\_ dezenas e \_\_\_\_ unidades

## Que número sou eu?

Leia as dezenas e unidades e descubra qual é o número. Escreva o resultado no espaço.

- a) 1 dezena e 4 unidades = \_\_\_\_\_
- b) 2 dezenas e 7 unidades = \_\_\_\_\_
- c) 3 dezenas e 1 unidade = \_\_\_\_\_
- d) 0 dezenas e 5 unidades = \_\_\_\_\_
- e) 1 dezena e 9 unidades = \_\_\_\_\_

## Decomponha os números

Para cada número, desenhe as barras para as dezenas ( | ) e os cubos para as unidades ( O ).

Número	Desenhe aqui
12	
23	
7	
30	

## Pinte a resposta certa

Para cada número na primeira coluna, pinte o quadradinho que mostra a quantidade correta de dezenas e unidades.

Número	Opção 1	Opção 2	Opção 3
17	7 dezenas e 1 unidade	1 dezena e 7 unidades	1 dezena e 0 unidades
24	2 dezenas e 4 unidades	4 dezenas e 2 unidades	2 dezenas e 0 unidades
8	8 dezenas e 0 unidades	1 dezena e 8 unidades	0 dezenas e 8 unidades
31	1 dezena e 3 unidades	3 dezenas e 1 unidade	3 dezenas e 0 unidades

## Ligue os pares corretos

Ligue cada número da esquerda à sua forma decomposta na direita.

**27**

1 dezena e  
5 unidades

**15**

0 dezenas e  
8 unidades

**32**

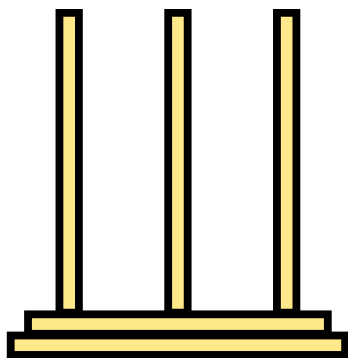
2 dezenas e  
7 unidades

**8**


3 dezenas e  
2 unidades

## Represente as dezenas e unidades no ábaco

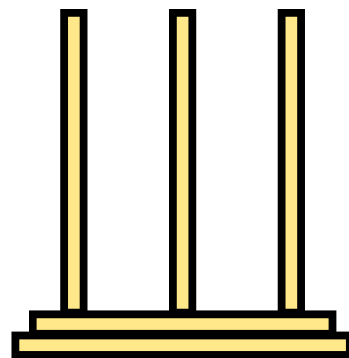
Desenhe em cada ábaco o número de argolas corretamente na dezena (D) e na unidade (U).




45




63




38




9




81




74



60



13



22

## Pequenos problemas

Leia com atenção e resolva os probleminhas sobre dezenas e unidades.

A) Lúcia comprou 1 caixa com 10 lápis de cor e mais 8 lápis avulsos. Com quantos lápis Lúcia ficou no total?

\_\_\_ dezena e \_\_\_ unidades = \_\_\_ lápis

B) Pedro tem 2 dezenas de bolinhas de gude. Seu amigo tem 5 unidades. Quantas bolinhas de gude eles têm se juntarem tudo?

\_\_\_ dezenas e \_\_\_ unidades = \_\_\_ bolinhas de gude

*Mais recursos*  
**EDUCATIVOS**

**educlub**

[www.educlub.com.br](http://www.educlub.com.br)