



NÚMEROS ROMANOS




I	1	um
V	5	cinco
X	10	dez
L	50	cinquenta
C	100	cem
D	500	quinhentos
M	1000	mil

NUMERAIS ROMANOS


Conecte cada dado ao seu numeral romano correspondente e aos palitos de picolé.



IV




II




VI



I



III



V



NÚMEROS ROMANOS

Abaixo estão as sete (7) letras usadas como numerais com base no antigo sistema romano. Escreva o número que cada numeral romano representa, lembrando:

- Um símbolo colocado após outro de valor igual ou maior acrescenta seu valor.
- Um símbolo colocado antes de outro de maior valor subtrai seu valor.

I	V	X	L	C	D	M
1	5	10	50	100	500	1000

- | | | | | | | | |
|-----|-------------|---|-------|-----|-----------------|---|-------|
| 1. | V | = | _____ | 16. | LXX | = | _____ |
| 2. | III | = | _____ | 17. | XXXVI | = | _____ |
| 3. | XI | = | _____ | 18. | XXI | = | _____ |
| 4. | XIX | = | _____ | 19. | XXV | = | _____ |
| 5. | VII | = | _____ | 20. | XL | = | _____ |
| 6. | IV | = | _____ | 21. | LXII | = | _____ |
| 7. | I | = | _____ | 22. | XCII | = | _____ |
| 8. | XV | = | _____ | 23. | LXXIV | = | _____ |
| 9. | L | = | _____ | 24. | LVII | = | _____ |
| 10. | XX | = | _____ | 25. | MM | = | _____ |
| 11. | XXIV | = | _____ | 26. | XX | = | _____ |
| 12. | CD | = | _____ | 27. | MCX | = | _____ |
| 13. | II | = | _____ | 28. | CIII | = | _____ |
| 14. | CCI | = | _____ | 29. | XCVII | = | _____ |
| 15. | XXX | = | _____ | 30. | LXXXVIII | = | _____ |

ADIÇÃO DE NÚMEROS ROMANOS

Use a tabela para preencher as respostas corretas. A primeira já está pronta para você.

I = 1	II = 2	III = 3	IV = 4	V = 5
VI = 6	VII = 7	VIII = 8	IX = 9	X = 10

ADIÇÃO	RESPOSTA	RESPOSTA EM NÚMERO ROMANO
III+V=	8	VIII
I+IV=		
IX+I=		
V+IV=		
I+VII=		
IV+II=		
VI+II=		