



# Festa dos Balões

A Magali está organizando uma festa e precisa da sua ajuda para encher os balões! Leia cada situação e pinte a quantidade correta de balões.


**Situação 1:** Magali comprou 10 balões. Ela quer que 50% deles sejam azuis. Quantos balões azuis ela terá? Pinte os balões de azul.



**Situação 2:** Dos balões que sobraram, 20% devem ser vermelhos. Quantos balões vermelhos ela terá? Pinte os balões de vermelho.



**Situação 3:** O restante dos balões (30%) serão amarelos. Quantos balões amarelos ela terá? Pinte os balões de amarelo.



## Caça ao Tesouro Percentual na Fazenda!

O Chico Bento escondeu alguns tesouros na fazenda! Ajude-o a encontrar os tesouros ligando cada porcentagem à sua fração correspondente.

$$\frac{1}{2}$$

25%

$$\frac{1}{4}$$

50%

$$\frac{1}{10}$$

75%

$$\frac{1}{1}$$

10%

$$\frac{3}{4}$$

100%



# Compras no Mercadinho da Mônica!

A Mônica está fazendo uma liquidação no mercadinho! Ajude-a a calcular os preços com desconto.



R\$ 4,00



Cálculo: \_\_\_\_\_

Cálculo: \_\_\_\_\_



R\$ 5,00



Cálculo: \_\_\_\_\_

Cálculo: \_\_\_\_\_



R\$ 10,00



Cálculo: \_\_\_\_\_

Cálculo: \_\_\_\_\_

## Zoológico Percentual do Cascão!

O Cascão visitou o zoológico e fez um gráfico mostrando a porcentagem de cada tipo de animal. Se o zoológico tem um total de 100 animais, quantos animais de cada tipo ele viu?



- Quantos leões o Cascão viu?
- Quantos macacos o Cascão viu?
- Quantas girafas o Cascão viu?
- Quantos elefantes o Cascão viu?
- Quantas zebras o Cascão viu?

# Mais recursos EDUCATIVOS EM

**educlub**

[www.educlub.com.br](http://www.educlub.com.br)