

# Desvendando os Instrumentos

Observe cada imagem de instrumento de localização. Leia as descrições e ligue cada instrumento à sua função correta.



Mostra os pontos cardeais (Norte, Sul, Leste, Oeste).

Ajuda a encontrar endereços e rotas em tempo real, usando satélites.


Representa a Terra de forma plana, com muitos detalhes de cidades e países.

Representa a Terra de forma esférica, mostrando o formato real do planeta.

# Bússola e Pontos Cardeais

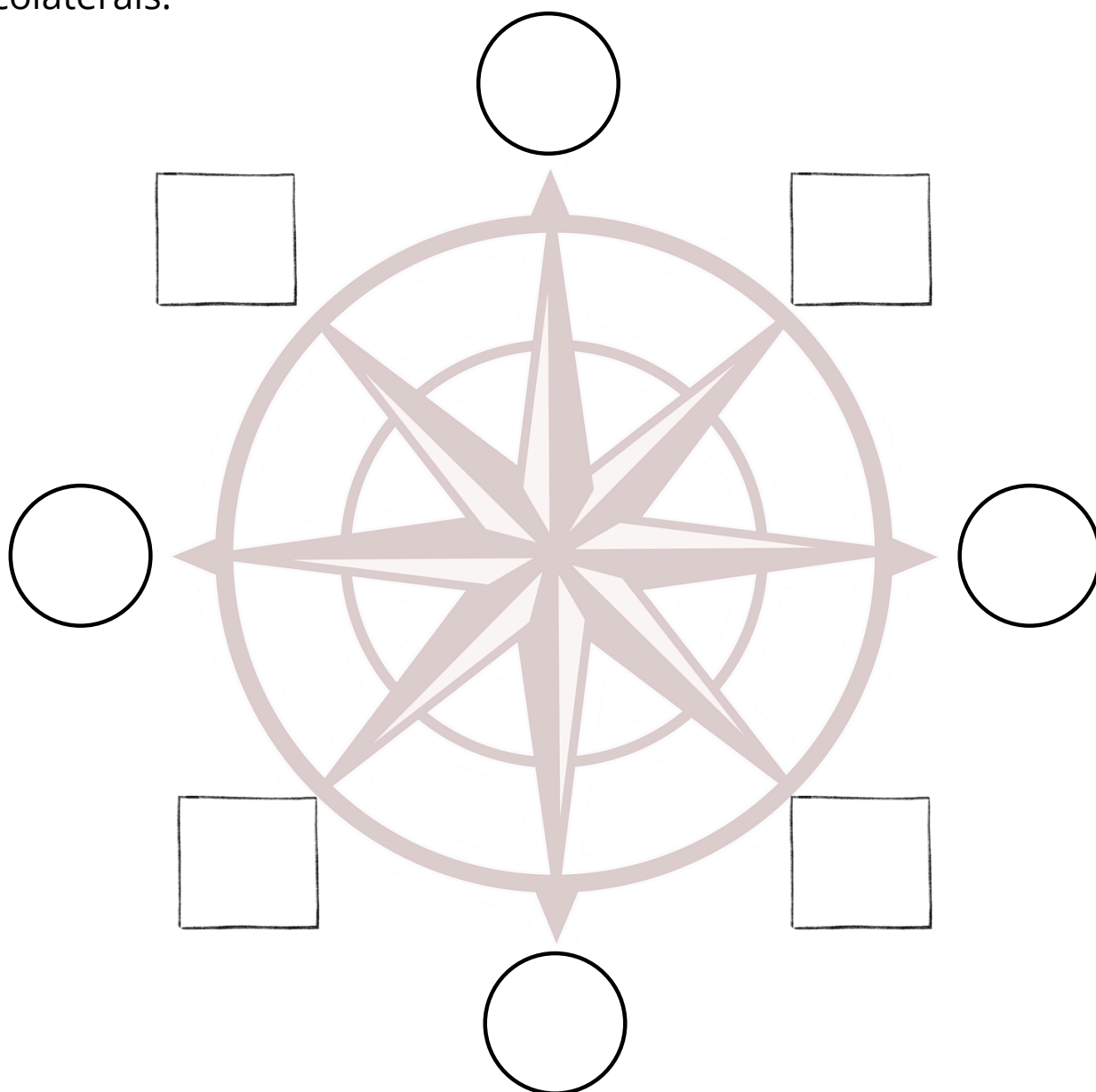
Observe a bússola e os pontos cardeais. O menino está no centro da imagem abaixo. Complete as frases com os pontos cardeais corretos, usando a bússola como guia:

1. A(o) \_\_\_\_\_ está ao Norte.
2. A(o) \_\_\_\_\_ está ao Sul.
3. A(o) \_\_\_\_\_ está ao Leste.
4. A(o) \_\_\_\_\_ está ao Oeste.



## Rosa dos Ventos e Pontos Colaterais

A Rosa dos Ventos é o desenho que aparece na bússola e nos mapas para nos orientar. Preencha os espaços vazios com as siglas corretas dos pontos cardeais e colaterais. Depois, pinte de amarelo os pontos cardeais e de laranja os pontos colaterais."



**Pontos cardeais: N (Norte) - S (Sur) - L (Leste) - O (Oeste)**  
**Pontos colaterais: NE (Nordeste), SE (Sudeste), SO (Sudoeste), NO (Noroeste)**


## Questões de Fixação

1. Escreva o nome por extenso dos pontos que você completou na Rosa dos Ventos:

- N: \_\_\_\_\_
- S: \_\_\_\_\_
- L: \_\_\_\_\_
- O: \_\_\_\_\_
- NE: \_\_\_\_\_
- SE: \_\_\_\_\_

2. O Sol sempre nasce do mesmo lado todos os dias. Esse lado é o:

- a) Norte
- b) Sul
- c) Leste
- d) Oeste



Mais recursos  
**EDUCATIVOS EM**

**educlub**