

# QUANTOS PRESENTES HÁ NO SACO?

O Papai Noel misturou todos os presentes no saco! Ajude-o a organizar contando quantos presentes de cada tipo existem.



<b>QUANTAS BONECAS?</b>	_____
<b>QUANTOS CARRINHOS?</b>	_____
<b>QUANTAS BOLAS?</b>	_____
<b>QUANTOS ROBÔS?</b>	_____

## SOMANDO ENFEITES

Conte os desenhos, monte a continha e descubra o total de enfeites.

Bolas de Natal:

$$3 + 2 = \square$$

Estrelas:

$$4 + 1 = \square$$

Velas:



$$2 + 3 = \square$$

*Espaço para desenvolver as continhas:*

# GRÁFICO DOS BRINQUEDOS

A fábrica do Papai Noel produziu muitos brinquedos hoje. Observe a tabela de produção e pinte um quadradinho no gráfico para cada brinquedo feito.

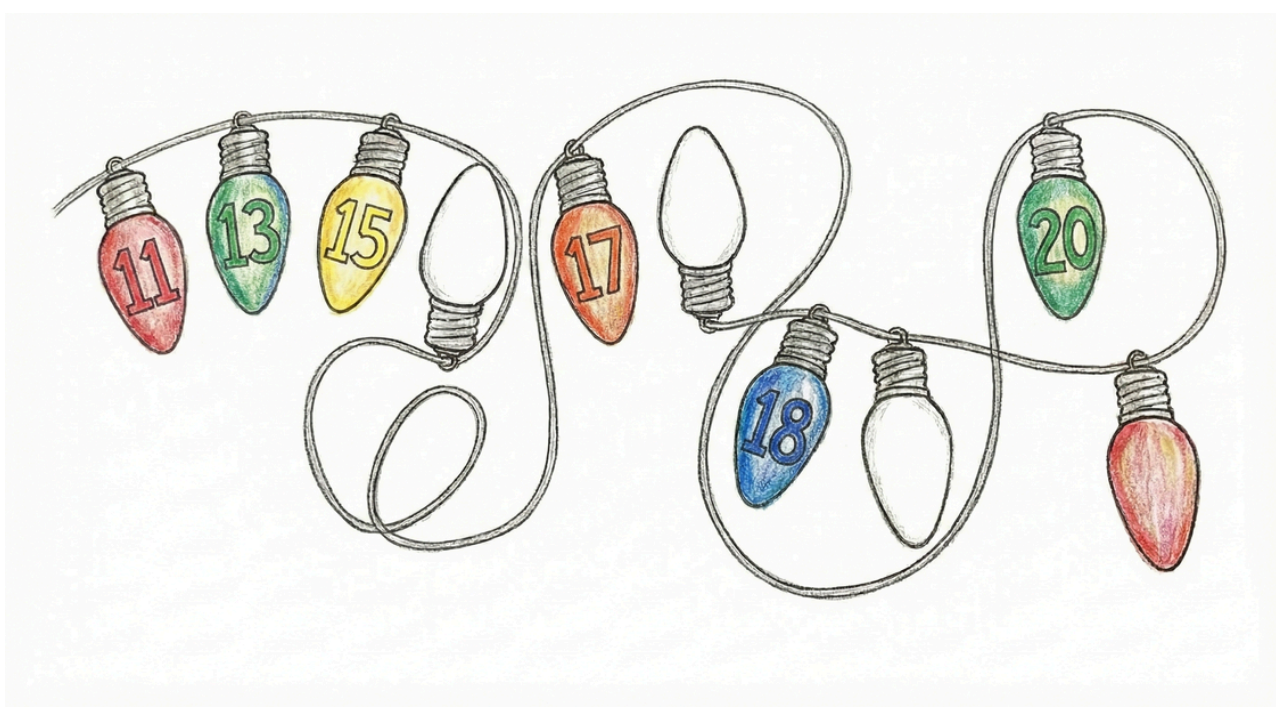
## Tabela de Produção:



6				
5				
4				
3				
2				
1				
	URSO	TAMBOR	BOLA	TREM

## SEQUÊNCIA NUMÉRICA NAS LUZES

Algumas lâmpadas do pisca-pisca queimaram e os números sumiram! Complete a sequência numérica de 1 até 30 nas lâmpadas vazias.



Mais recursos  
**EDUCATIVOS EM**

**educlub**