



Problemas de Matemática para 3º ano

Na Quitanda do Seu Juca


Seu Juca tinha 45 maçãs. Vendeu 18 de manhã. Quantas maçãs sobraram para vender à tarde?




Uma caixa de morangos custa R\$ 8,00. Se eu comprar 3 caixas, quanto vou pagar?



Havia 24 bananas em uma penca. O macaco Kiko comeu a metade. Quantas bananas restaram?




Maria comprou uma melancia por R\$ 15,00 e pagou com uma nota de R\$ 20,00. Quanto ela recebeu de troco?



Atividade de Aniversário


Para a festa de Aninha, mamãe encheu 36 balões azuis e 27 balões coloridos. Quantos balões há na festa ao todo?



Na mesa, há 4 bandejas com 5 brigadeiros em cada uma. Quantos brigadeiros há no total?



Se chegarem 12 convidados e cada um ganhar 2 pirulitos, de quantos pirulitos a Aninha vai precisar?




A festa começou às 14:00 e terminou às 17:00. Quantas horas durou a diversão?




O Mundo dos Animais

Um cachorro tem 4 patas. Quantas patas têm 6 cachorros juntos?



No aquário de Beto, havia 15 peixinhos dourados. Ele ganhou mais 7 de sua tia. Com quantos peixes ele ficou?



Uma gata teve 8 gatinhos. Metade dos gatinhos é branco. Quantos gatinhos brancos ela teve?



O passarinho Pipoca come 10 sementes por dia. Quantas sementes ele comerá em 5 dias?



Desafios de Lógica e Medidas

Um chocolate custa R\$ 2,50. Tenho R\$ 5,00. Consigo comprar quantos chocolates?




Fui ao mercado e comprei 1kg de arroz, 1kg de feijão e 1kg de açúcar. Quantos quilos estou carregando na sacola?

Se hoje é dia 10 e o aniversário de Pedro é daqui a uma semana, em que dia será o aniversário dele?



Tenho 3 notas de R\$ 10,00. Qual o valor total que eu tenho?




Brinquedos e Brincadeiras


No pátio da escola, há 12 bicicletas. Quantas rodas há no total?




João tem 50 figurinhas. Perdeu 15 jogando "bafo". Com quantas ele ficou?



Uma caixa de lápis de cor tem 12 unidades. Quantos lápis existem em 2 caixas?



Ganhei um álbum que cabe 100 figurinhas. Já coleí 80. Quantas faltam para completar o álbum?



Mais recursos EDUCATIVOS EM

educlub

www.educlub.com.br